

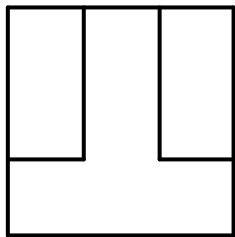
Name _____

ÜBUNGSBLATT 2 - DARSTELLENDEN GEOMETRIE - SS 2009

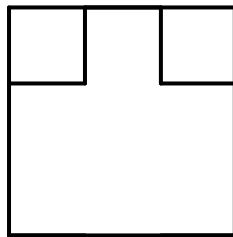
Angabe

Die folgenden Objekte sind jeweils in Grund- und Aufriss gegeben, wobei **alle** Kanten eingezeichnet sind, sichtbare wie unsichtbare (eventuell doppelt oder mehrfach überdeckt; in diesem Fall ist nur die vordere Kante zu sehen). Ein Schrägrissbild eines möglichen derartigen Objekts ist zu zeichnen. (a und b werden in der Vorlesung besprochen. c, d und e sind jedenfalls zu zeichnen, dazu eine der Objekte f, g und h.)

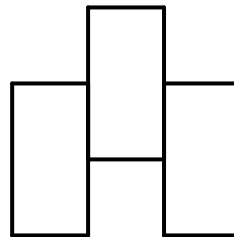
a)



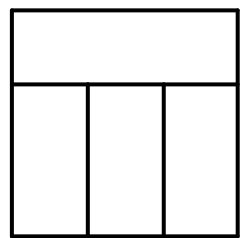
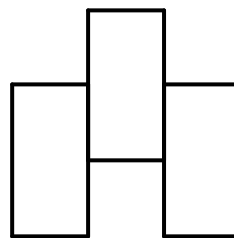
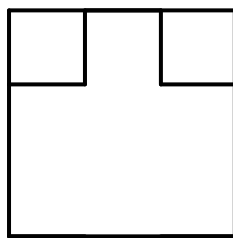
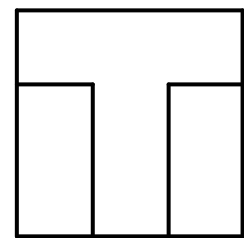
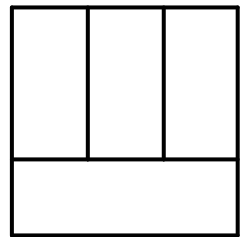
b)



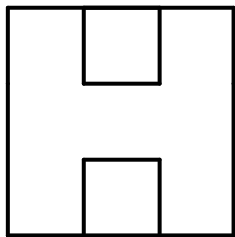
c)



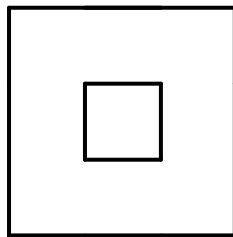
d)



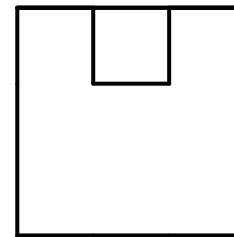
e)



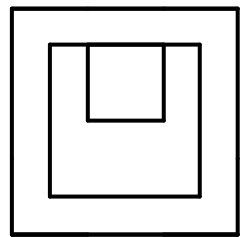
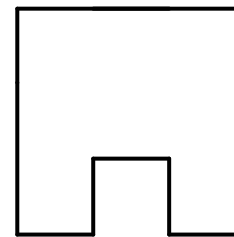
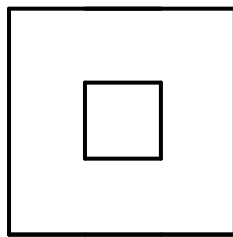
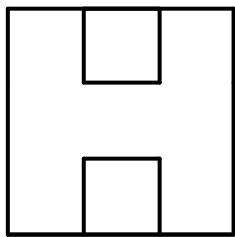
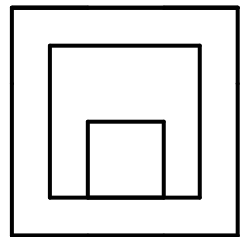
f)



g)



h)



Name _____

ÜBUNGSBLATT 2 - DARSTELLENDGEOMETRIE - SS 2009
Ausführung

c)	d)
e)	f) oder g) oder h)